


Name:


Aufgabe 1



Weiß erzwingt das Matt!

Vollständige Varianten angeben: 2P


Aufgabe 2



Weiß erzwingt das Matt!

Vollständige Varianten angeben: 2P


Aufgabe 3



Weiß erzwingt das Matt!

Vollständige Varianten angeben: 3P

Aufgabe 4



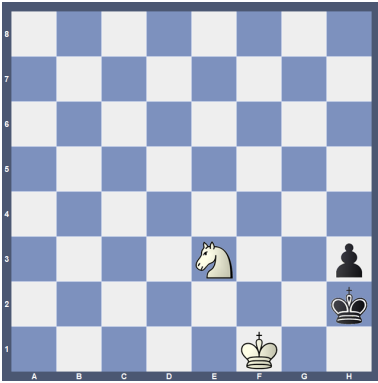
Matt in 2 Zügen!

Schlüsselzug: 1P

schwarze Antworten mit Mattzug: 1P

Aufgabe 5

Auswahl: 1:0 0:1 $\frac{1}{2} : \frac{1}{2}$
(bitte eindeutig markieren)



Weiß ist am Zug, wie lautet das Ergebnis bei bestem Spiel beider Seiten?


Wähle die richtige Antwort und belege mit Varianten!

Richtige Auswahl: 1 P

Korrekte Variantenangabe: 2 P

Aufgabe 6

Auswahl: 1:0 0:1 $\frac{1}{2} : \frac{1}{2}$
(bitte eindeutig markieren)




Wie ist dieses Endspiel mit Weiß am Zug bei bestem Spiel beider Seiten einzuschätzen?

Richtige Auswahl: 1P

nachvollziehbare Begründung des Ergebnisses durch Varianten und Erläuterung: 4P

Aufgabe 7




Weiß setzt matt in 4 Zügen!

Schlüsselzug: 1P

wesentliche Varianten: 2P

Aufgabe 8



ACHTUNG, SCHWARZ AM ZUG!!

Schwarz hält remis, wenn er den Schlüsselzug und die passende Idee findet.

Schlüsselzug: 1P

Nachvollziehbare Darstellung des Remisweges mit Varianten und/oder verbal: 2P

Aufgabe 9




Weiß erzwingt Materialgewinn!

Schlüsselzug mit Angabe der Drohung: 2P

Widerlegung der wesentlichen Verteidigungsideen von Schwarz: je 2P

Aufgabe 10




Matt in zwei Zügen!

Schlüsselzug: 1P

schwarze Antworten mit Mattzug: je 1P

Aufgabe 11



Matt in zwei Zügen!

Schlüsselzug: 1P

schwarze Antworten mit Mattzug: je 1P

Lösezeit: _____ Minuten

erreichte Punkte: _____ von _____

Platz: _____