


Aufgabe 1



Weiß am Zug. Matt in 1

Aufgabe 2




Notiere alle Matt in 1 für W und S

Aufgabe 3



Schwarz am Zug gewinnt (3 Punkte)

Aufgabe 4




Weiß am Zug. Matt in 2 (5 Punkte)

Aufgabe 5



Suche den besten Zug für Weiß (3 Punkte)


Aufgabe 6



Weiß am Zug erreicht Remis (3 Punkte)


Name:

Aufgabe 7



Schwarz am Zug. Matt in 3 (5 Punkte)

Aufgabe 8




Weiß am Zug. Matt in 2 (6 Punkte)

Aufgabe 9



Weiß am Zug. Matt in 2 (10 Punkte)

Aufgabe 10



Weiß am Zug. Matt in 3 (10 Punkte)