


Problem 1



Weiß + Schwarz: Matt in 1 (2 Punkte)

Problem 2




Notiere die Matt in 1 - Züge für Weiß
und Schwarz (1 Punkt pro Mattzug)

Problem 3



Schwarz am Zug. Matt in 1 (1 Punkt)

Problem 4




Schwarz am Zug. Matt in 2 (3 Punkte)

Problem 5



Weiß am Zug. Matt in 2 (3 Punkte)

Problem 6



Weiß am Zug. Matt in 2 (5 Punkte)


Name:

Problem 7




Wei am Zug. Matt in 3 (5 Punkte)

Problem 8



Wei am Zug gewinnt (8 Punkte)

Problem 9



Wei am Zug. Matt in 2 (9 Punkte)

Problem 10



Wei am Zug. Matt in 3 (9 Punkte)