


Problem-Nr. 01-A




Weiß zieht und setzt in **1 Zug** schachmatt.

(Schlüsselzug: 2 Punkte)

Lösung: _____

Punkte: ____ / 2 Punkte

Problem-Nr. 01-B




Weiß zieht und setzt in **1 Zug** schachmatt.

(Schlüsselzug: 2 Punkte)

Lösung: _____

Punkte: ____ / 2 Punkte

Problem-Nr. 01-C




Weiß zieht und setzt in **1 Zug** schachmatt.

(Schlüsselzug: 2 Punkte)

Lösung: _____

Punkte: ____ / 2 Punkte

Problem-Nr. 01-D




Weiß zieht und setzt in **1 Zug** schachmatt.

(Schlüsselzug: 2 Punkte)

Lösung: _____

Punkte: ___ / 2 Punkte

Problem-Nr. 01-E




Weiß zieht und setzt in **1 Zug** schachmatt.

(Schlüsselzug: 2 Punkte)

Lösung: _____

Punkte: ___ / 2 Punkte

Problem-Nr. 01-F




Weiß zieht und setzt in **1 Zug** schachmatt.

(Schlüsselzug: 2 Punkte)

Lösung: _____

Punkte: ___ / 2 Punkte

Problem-Nr. 01-G




Weiß zieht und setzt in **1 Zug** schachmatt.

(Schlüsselzug: 2 Punkte)

Lösung: _____

Punkte: ___ / 2 Punkte

Problem-Nr. 01-H




Weiß zieht und setzt in **1 Zug** schachmatt.

(Schlüsselzug: 2 Punkte)

Lösung: _____

Punkte: ___ / 2 Punkte

Problem-Nr. 02-A




Weiß zieht und setzt in **1 Zug** schachmatt.

(Schlüsselzug: 2 Punkte)

Lösung: _____

Punkte: ___ / 2 Punkte

Problem-Nr. 02-B




Weiß zieht und setzt in **1 Zug** schachmatt.

(Schlüsselzug: 2 Punkte)

Lösung: _____

Punkte: ___ / 2 Punkte

Problem-Nr. 02-C




Weiß zieht und setzt in **1 Zug** schachmatt.

(Schlüsselzug: 2 Punkte)

Lösung: _____

Punkte: ___ / 2 Punkte

Problem-Nr. 02-D




Weiß zieht und setzt in **1 Zug** schachmatt.

(Schlüsselzug: 2 Punkte)

Lösung: _____

Punkte: ___ / 2 Punkte

Problem-Nr. 02-E




Weiß zieht und setzt in **1 Zug** schachmatt.

(Schlüsselzug: 2 Punkte)

Lösung: _____

Punkte: ___ / 2 Punkte

Problem-Nr. 02-F




Weiß zieht und setzt in **1 Zug** schachmatt.

(Schlüsselzug: 2 Punkte)

Lösung: _____

Punkte: ___ / 2 Punkte

Problem-Nr. 02-G




Weiß zieht und setzt in **1 Zug** schachmatt.

(Schlüsselzug: 2 Punkte)

Lösung: _____

Punkte: ___ / 2 Punkte

Problem-Nr. 03-A




Weiß zieht und setzt in **1 Zug** schachmatt.

(Schlüsselzug: 2 Punkte)

Lösung: _____

Punkte: ___ / 2 Punkte

Problem-Nr. 03-B




Weiß zieht und setzt in **1 Zug** schachmatt.

(Schlüsselzug: 2 Punkte)

Lösung: _____

Punkte: ___ / 2 Punkte

Problem-Nr. 03-C




Weiß zieht und setzt in **1 Zug** schachmatt.

(Schlüsselzug: 2 Punkte)

Lösung: _____

Punkte: ___ / 2 Punkte

Problem-Nr. 03-D




Weiß zieht und setzt in 1 Zug schachmatt.

(Schlüsselzug: 2 Punkte)

Lösung: _____

Punkte: ___ / 2 Punkte

Problem-Nr. 03-E




Weiß zieht und setzt in 1 Zug schachmatt.

(Schlüsselzug: 2 Punkte)

Lösung: _____

Punkte: ___ / 2 Punkte

Problem-Nr. 04




Weiß zieht und setzt in **2 Zügen** schachmatt.

(Schlüsselzug: 2 Punkte + Drohung 1 Punkt + jeder weitere weiße Zug 1 Punkt)

Lösung: _____

Punkte: ____ / 7 Punkte

Problem-Nr. 05




Weiß zieht und setzt in **5 Zügen** schachmatt.

(Schlüsselzug: 2 Punkte + je Drohung in der Hauptvariante 1 Punkt + jeder weitere weiße Zug in der Hauptvariante 1 Punkt) Lösung:

Punkte: ____ / 10 Punkte

Problem-Nr. 06



Weiß zieht und setzt in **3 Zügen** schachmatt.

(Schlüsselzug: 2 Punkte + jeder weitere weiße Zug 1 Punkt)

Lösung: _____

Punkte: ____ / 6 Punkte