




Nr. 01.01

Weiß zieht und setzt in 1 Zug schachmatt.
 (Punkte: 02/___) Lösung: _____



Nr. 01.02

Weiß zieht und setzt in 1 Zug schachmatt.
 (Punkte: 02/___) Lösung: _____




Nr. 01.03

Weiß zieht und setzt in 1 Zug schachmatt.
 (Punkte: 02/___) Lösung: _____




Nr. 01.04

Weiß zieht und setzt in 1 Zug schachmatt.
 (Punkte: 02/___) Lösung: _____



Nr. 01.05

Weiß zieht und setzt in 1 Zug schachmatt.
 (Punkte: 02/___) Lösung: _____



Nr. 01.06

Weiß zieht und setzt in 1 Zug schachmatt.
 (Punkte: 02/___) Lösung: _____




Nr. 01.07

Weiß zieht und setzt in 1 Zug schachmatt.
 (Punkte: 02/___) Lösung: _____



Nr. 01.08

Weiß zieht und setzt in 1 Zug schachmatt.
 (Punkte: 02/___) Lösung: _____



Nr. 01.09

Weiß zieht und setzt in 1 Zug schachmatt.
 (Punkte: 02/___) Lösung: _____



Nr. 02.01

Weiß zieht und setzt in 1 Zug schachmatt.
 (Punkte: 02/___) Lösung: _____



Nr. 02.02

Weiß zieht und setzt in 1 Zug schachmatt.
 (Punkte: 02/___) Lösung: _____



Nr. 02.03

Weiß zieht und setzt in 1 Zug schachmatt.
 (Punkte: 02/___) Lösung: _____




Nr. 02.04

Weiß zieht und setzt in 1 Zug schachmatt.
 (Punkte: 02/___) Lösung: _____




Nr. 03.01

Weiß zieht und setzt in 1 Zug schachmatt.
 (Punkte: 02/___) Lösung: _____



Nr. 03.02

Weiß zieht und setzt in 1 Zug schachmatt.
 (Punkte: 02/___) Lösung: _____



Nr. 03.03

Weiß zieht und setzt in 1 Zug schachmatt.
 (Punkte: 02/___) Lösung: _____



Nr. 04.01

Weiß zieht und setzt in 1 Zug schachmatt.
 (Punkte: 02/___) Lösung: _____



Nr. 04.02

Weiß zieht und setzt in 1 Zug schachmatt.
 (Punkte: 02/___) Lösung: _____



Nr. 04.03

Weiß zieht und setzt in 1 Zug schachmatt.
 (Punkte: 02/___) Lösung: _____



Nr. 04.04

Weiß zieht und setzt in 1 Zug schachmatt.
 (Punkte: 02/___) Lösung: _____



Nr. 04.05

Weiß zieht und setzt in 1 Zug schachmatt.
 (Punkte: 02/___) Lösung: _____



Nr. 04.06

Weiß zieht und setzt in 1 Zug schachmatt.
 (Punkte: 02/___) Lösung: _____



Nr. 04.07

Weiß zieht und setzt in 1 Zug schachmatt.
 (Punkte: 02/___) Lösung: _____



Nr. 04.08

Weiß zieht und setzt in 1 Zug schachmatt.
 (Punkte: 02/___) Lösung: _____



Nr. 04.09

Weiß zieht und setzt in 1 Zug schachmatt.
 (Punkte: 02/___) Lösung: _____




Nr. 04.10

Weiß zieht und setzt in 1 Zug schachmatt.
 (Punkte: 02/___) Lösung: _____




Nr. 05.01

Weiß zieht und setzt in 1 Zug schachmatt.
 (Punkte: 02/___) Lösung: _____



Nr. 05.02

Weiß zieht und setzt in 1 Zug schachmatt.
 (Punkte: 02/___) Lösung: _____



Nr. 05.03

Weiß zieht und setzt in 1 Zug schachmatt.
 (Punkte: 02/___) Lösung: _____



Nr. 05.04


Weiß zieht und setzt in 1 Zug schachmatt.
 (Punkte: 02/___) Lösung: _____



Nr. 06

**Weiß zieht und setzt in 2 Zügen schachmatt.
(Punkte: 06/___)**


Lösung:



Nr. 07

**Weiß zieht und setzt in 2 Zügen schachmatt.
(Punkte: 07/___)**


Lösung:



Nr. 08

**Weiß zieht und setzt in 3 Zügen schachmatt.
(Punkte: 05/___)**

Lösung:



Nr. 09

**Weiß zieht und hält Remis!
(Punkte: 08/___)**

Lösung:
